



1 2 3

**CUADERNILLO
DE MATEMATICA**

**PARA NIÑOS DE
PRIMER GRADO DE
PRIMARIA**

NOMBRE

SUMAS CON 1 DIGITO

Realiza las siguientes sumas de un dígito, colocando el resultado en cada cuadro.

$3 + 5 = \square$

$6 + 2 = \square$

$4 + 3 = \square$

$3 + 6 = \square$

$2 + 4 = \square$

$1 + 5 = \square$

$4 + 4 = \square$

$3 + 0 = \square$

$8 + 1 = \square$

$5 + 4 = \square$

NOMBRE

SUMAS CON 2 DÍGITOS

Realiza las siguientes sumas de dos dígitos, colocando el resultado debajo de cada línea.

$$\begin{array}{r} + 12 \\ \underline{\quad 3} \end{array}$$

$$\begin{array}{r} + 13 \\ \underline{\quad 8} \end{array}$$

$$\begin{array}{r} + 17 \\ \underline{\quad 7} \end{array}$$

$$\begin{array}{r} + 10 \\ \underline{\quad 5} \end{array}$$

$$\begin{array}{r} + 17 \\ \underline{\quad 5} \end{array}$$

$$\begin{array}{r} + 11 \\ \underline{\quad 8} \end{array}$$

$$\begin{array}{r} + 14 \\ \underline{\quad 3} \end{array}$$

$$\begin{array}{r} + 15 \\ \underline{\quad 8} \end{array}$$

$$\begin{array}{r} + 18 \\ \underline{13} \end{array}$$

$$\begin{array}{r} + 19 \\ \underline{\quad 2} \end{array}$$

$$\begin{array}{r} + 12 \\ \underline{\quad 8} \end{array}$$

$$\begin{array}{r} + 14 \\ \underline{\quad 7} \end{array}$$

$$\begin{array}{r} + 28 \\ \underline{13} \end{array}$$

$$\begin{array}{r} + 12 \\ \underline{\quad 7} \end{array}$$

$$\begin{array}{r} + 17 \\ \underline{\quad 9} \end{array}$$

$$\begin{array}{r} + 19 \\ \underline{\quad 5} \end{array}$$

RESTA CON 1 DIGITO

Realiza las siguientes restas de un dígito, colocando el resultado en cada cuadro.

$4 - 3 = \square$

$5 - 2 = \square$

$8 - 3 = \square$

$7 - 6 = \square$

$3 - 1 = \square$

$9 - 0 = \square$

$9 - 4 = \square$

$4 - 1 = \square$

$8 + 1 = \square$

$7 + 4 = \square$

NOMBRE

RESTAS CON 2 DÍGITOS

Realiza las siguientes restas de dos dígitos, colocando el resultado debajo de cada línea.

$$\begin{array}{r} 11 \\ - 8 \\ \hline \end{array}$$

$$\begin{array}{r} 33 \\ - 8 \\ \hline \end{array}$$

$$\begin{array}{r} 17 \\ - 7 \\ \hline \end{array}$$

$$\begin{array}{r} 18 \\ - 9 \\ \hline \end{array}$$

$$\begin{array}{r} 28 \\ - 13 \\ \hline \end{array}$$

$$\begin{array}{r} 30 \\ - 18 \\ \hline \end{array}$$

$$\begin{array}{r} 14 \\ - 7 \\ \hline \end{array}$$

$$\begin{array}{r} 15 \\ - 8 \\ \hline \end{array}$$

$$\begin{array}{r} 32 \\ - 16 \\ \hline \end{array}$$

$$\begin{array}{r} 19 \\ - 16 \\ \hline \end{array}$$

$$\begin{array}{r} 21 \\ - 16 \\ \hline \end{array}$$

$$\begin{array}{r} 21 \\ - 14 \\ \hline \end{array}$$

$$\begin{array}{r} 18 \\ - 13 \\ \hline \end{array}$$

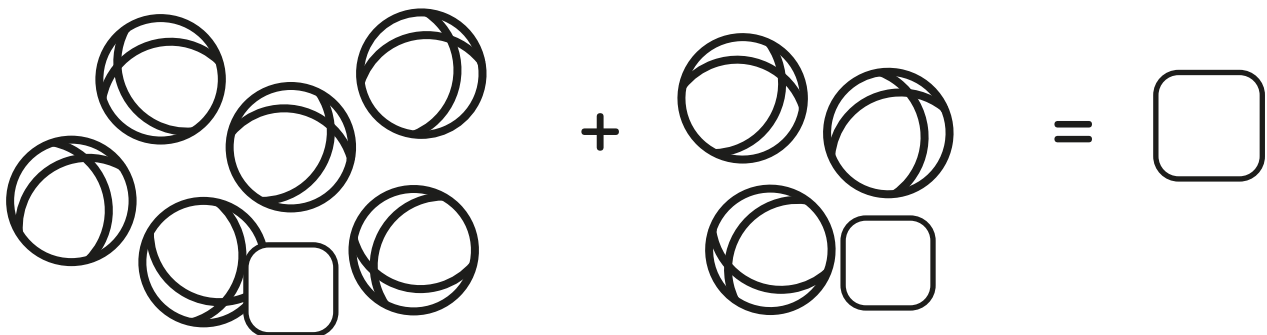


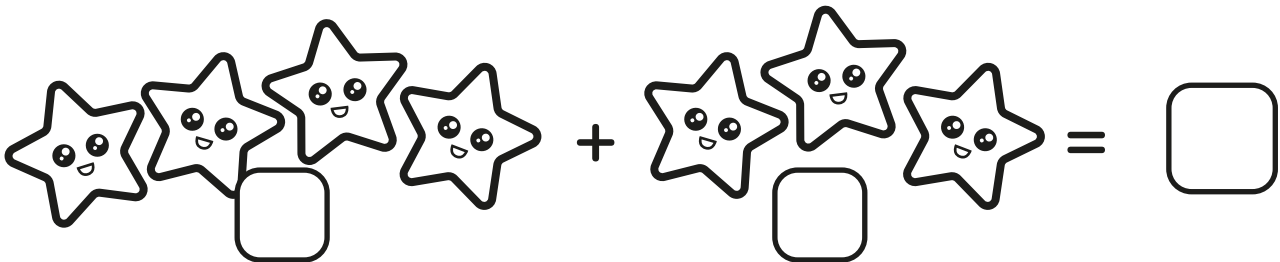

$$\begin{array}{r} 19 \\ - 17 \\ \hline \end{array}$$

$$\begin{array}{r} 31 \\ - 19 \\ \hline \end{array}$$

$$\begin{array}{r} 27 \\ - 18 \\ \hline \end{array}$$


Colorea y Suma los elementos

Colorea cada dibujo y coloca las cantidades para luego realizar la suma de los mismos, coloca el resultado en el cuadro final.




Colorea y Resta los elementos

Colorea cada dibujo y coloca las cantidades para luego realizar la resta de los mismos, coloca el resultado en el cuadro final.




Three fish are shown on the left, with a square box below them. A minus sign follows, then two fish are shown on the right, with a square box below them. An equals sign and a square box are on the far right.



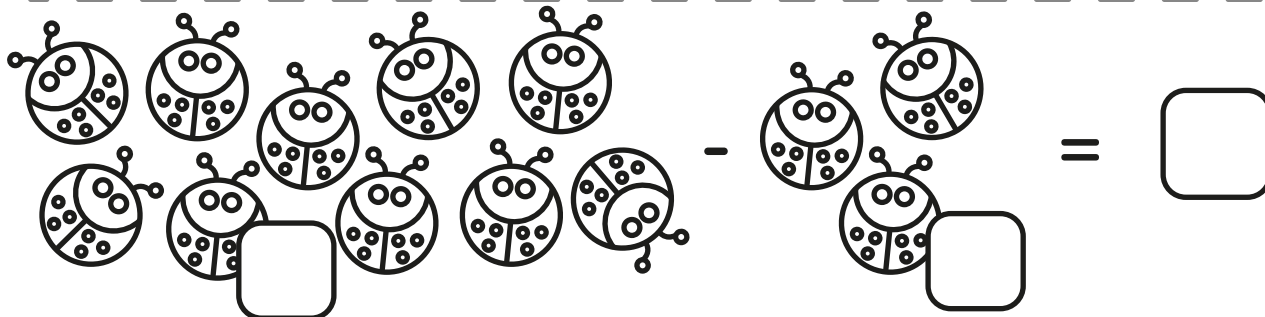
Five ice cream cones are shown on the left, with a square box below them. A minus sign follows, then two ice cream cones are shown on the right, with a square box below them. An equals sign and a square box are on the far right.



Seven mushrooms are shown on the left, with a square box below them. A minus sign follows, then three mushrooms are shown on the right, with a square box below them. An equals sign and a square box are on the far right.



Five smiling suns are shown on the left, with a square box below them. A minus sign follows, then three smiling suns are shown on the right, with a square box below them. An equals sign and a square box are on the far right.




Eight ladybugs are shown on the left, with a square box below them. A minus sign follows, then three ladybugs are shown on the right, with a square box below them. An equals sign and a square box are on the far right.

NOMBRE

IDENTIFICA Y COLOREA



Identifica cada figura geométrica y píntala del color señalado arriba.



NOMBRE

IDENTIFICA Y COLOREA

Identifica cada figura geométrica y pntala del color señalado arriba.



NOMBRE

SEÑALA EL NÚMERO MAYOR

Encierra con un círculo el número mayor.

3

5

7

2

15

3

3

8

8

9

18

81

13

31

20

25

2

20

23

32

NOMBRE



SEÑALA EL NÚMERO MENOR

Encierra con un círculo el número menor.

2

6

17

7

50

5

54

45

6

7

25

27

62

26

23

32

05

50

1

0

NOMBRE



COMPLETA LOS NÚMEROS

Completa los números faltantes en cada fila.

1	2	3				7			
---	---	---	--	--	--	---	--	--	--

	32					7		39	
--	----	--	--	--	--	---	--	----	--

	55				59				
--	----	--	--	--	----	--	--	--	--

		78	79						
--	--	----	----	--	--	--	--	--	--

									99
--	--	--	--	--	--	--	--	--	----

NOMBRE

COMPLETA LOS NÚMEROS

Completa los números faltantes en cada fila.

10	9	8				4			
----	---	---	--	--	--	---	--	--	--

				21				17	
--	--	--	--	----	--	--	--	----	--

44								36	
----	--	--	--	--	--	--	--	----	--


		68							
--	--	----	--	--	--	--	--	--	--

					36				
--	--	--	--	--	----	--	--	--	--

NOMBRE

DESCUBRE LA FIGURA

Une los números comenzando con el 1 y completa el dibujo



NOMBRE

DESCUBRE LA FIGURA

Une los números comenzando con el 1 y completa el dibujo.

